

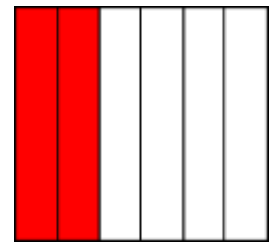
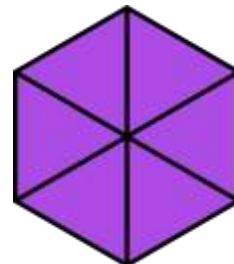
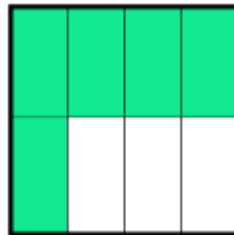
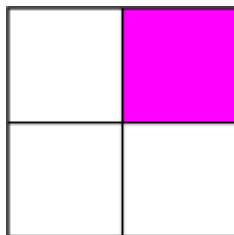
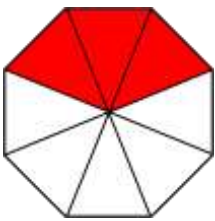
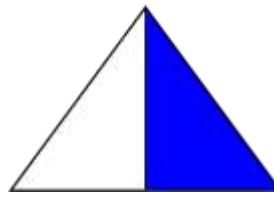
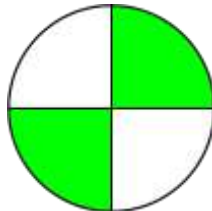


ΔΗΜΟΤΙΚΟ ΣΧΟΛΕΙΟ

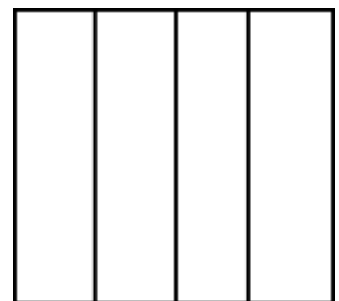
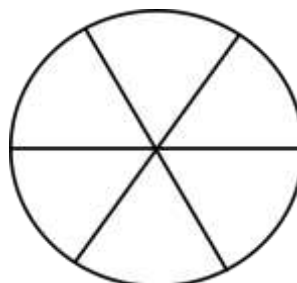
Όνομα: _____ Τάξη: _____


Ενότητα 5 (Κλάσματα)

1. Να γράψεις το κλάσμα που δείχνει τι μέρος του σχήματος είναι χρωματισμένο.

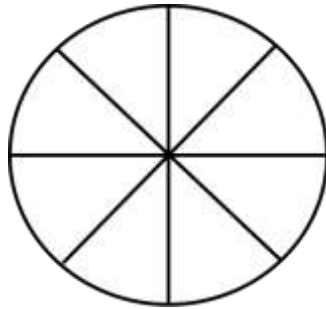


2. Να χρωματίσεις το σχήμα με βάση το κλάσμα που δίνεται.

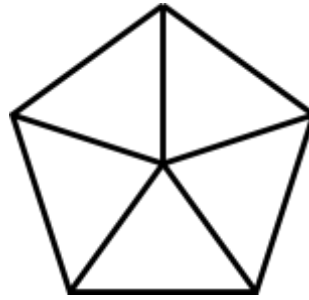




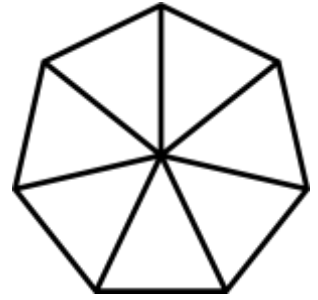
$$\frac{8}{10}$$



$$\frac{5}{8}$$

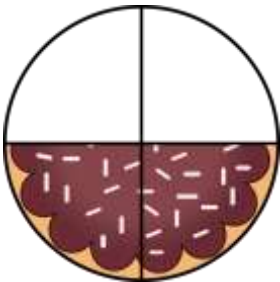


$$\frac{2}{5}$$

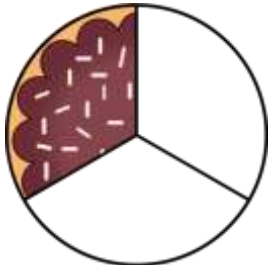


$$\frac{4}{7}$$

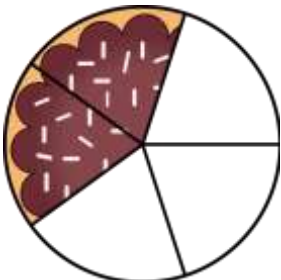
3. Ο Χρίστος κέρασε τους συμμαθητές του γλυκό. Τι μέρος του κάθε γλυκού έφαγε το κάθε παιδί;



Ο Λευτέρης έφαγε _____ του γλυκού. Έμειναν _____.



Ο Βαλάντω έφαγε _____ του γλυκού. Έμειναν _____.



Ο Χριστόφορος έφαγε _____ του γλυκού. Έμειναν _____.



Η Ιωάννα έφαγε _____ του γλυκού. Έμειναν _____.